

## 二類等教養（社会科学（法律・政治））

衆議院と参議院の権能に関する次の記述のうち妥当なのはどれか。

1. 内閣総理大臣の指名は、衆議院のみが持つ権能であり、指名には衆議院における過半数の賛成が必要である。
2. 内閣不信任決議は衆参両院が行うことができ、衆参両院でともに可決された場合、内閣は衆参両院を解散するか、総辞職することとなっている。
3. 衆議院で可決された法律案が参議院で否決された場合、その法律案は、衆議院で出席議員の3分の2以上の多数で再び可決したときは、法律となる。
4. 国の予算は、まず参議院で審議され可決された後、衆議院で審議がされ可決されると成立する。
5. 憲法改正の発議は、衆議院と参議院それぞれの総議員の過半数の賛成で、国会が行う。

〔正答番号〕 1 2 ③ 4 5

## 二類等教養（人文科学（国語））

次のことわざ・成句のうち、意味が妥当なのはどれか。

1. 瓢箪ひょうたんから駒：思いもよらないことが現実にかかること。
2. 魚心あれば水心：互いに近くにいながら、心が離れてしまっていること。
3. 藪やぶをつついて蛇を出す：身に災いが及ぶ前に、災いの元を取り除く。
4. 尻馬しりうまに乗る：弱い立場にある人の味方になる。
5. 二匹目の泥鰻どじょうを狙う：これまで誰も用いなかった方法によって、大きな成果を得ようとする。

〔正答番号〕 ① 2 3 4 5

二類等教養（判断推理）

図 I のように、三角形が一つ描かれた円 A が円 B の上端に内接している。円 A, B の円周の長さはそれぞれ 10 cm, 20 cm である。いま、円 A を、円 B の内側に沿って滑ることなく矢印の向きに回転させていく。図 II のアは円 A が円 B の内側を半周して下端に来たとき、イは円 A が円 B の内側を  $\frac{3}{4}$  周して左端に来たときの図である。それぞれにおける円 A の向きを正しく示しているのはどれか。

図 I

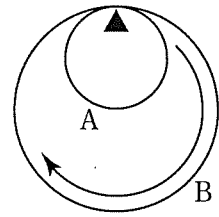
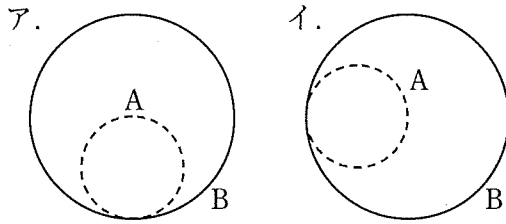


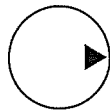
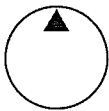
図 II



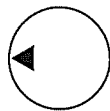
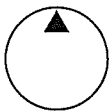
ア

イ

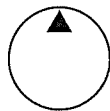
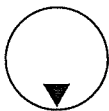
1.



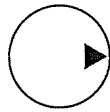
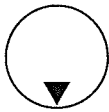
2.



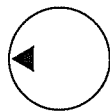
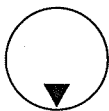
3.



4.



5.



〔正答番号〕 1 2 3 ④ 5